


Задания на неделю по теме «До свидания, детский сад! Здравствуй школа!» для детей и родителей. (18.05.20.-22.05.20).

Понедельник: ознакомление с окружающим миром.
«Здравствуй школа»

Презентация на тему: «Школа. Школьные...» [infourok.ru>prezentaciya-na-temu-shkola-shkolnie...](http://infourok.ru/prezentaciya-na-temu-shkola-shkolnie...)

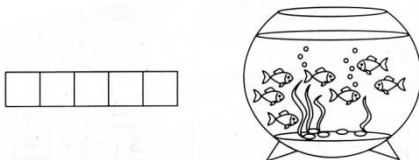


Развитие речи:





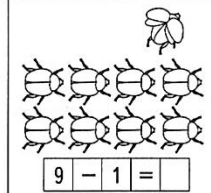

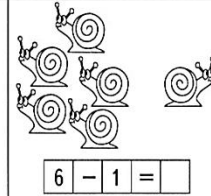
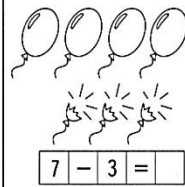
Конспект занятия по развитию речи на тему. [multiurok.ru>Обо мне>...-po-razvitiu-rechi-na...](http://multiurok.ru/Обо-мне>...-po-razvitiu-rechi-na...)

Занятие на повторение по ФЭМП в подготовительной...

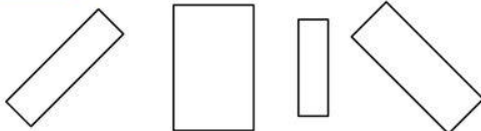
Реши задачи



Реши примеры на вычитание и впиши полученные ответы.



Задание 62 Определи размер прямоугольников.

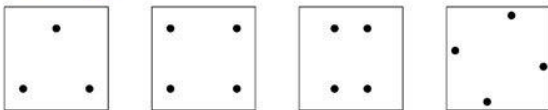


• Раскрась прямоугольники голубым цветом. Покажи самый большой прямоугольник и самый маленький.

ОБРАТИ ВНИМАНИЕ!

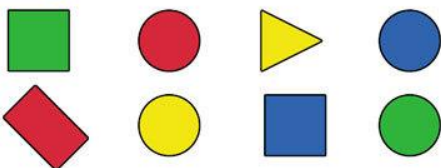
ФИГУРЫ В КАЖДОМ ИЗ ЗАДАНИЙ 58—62 ОДИНАКОВЫ ПО ФОРМЕ И ПО ЦВЕТУ, НО ОТЛИЧАЮТСЯ ПО РАЗМЕРУ.

Задание 63 Построй по точкам фигуру.



• Соедини точки прямыми и назови фигуру, которая получится.

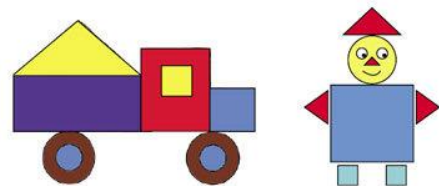
Задание 64 Каких фигур больше, а каких меньше?



• Рассмотрите картинку и скажи: каких фигур больше всего, а каких меньше всего?

• Кругов больше всего (их четыре), а прямоугольников и треугольников — меньше всего (их по одному).

Задание 65 Из каких фигур составлены предметы?

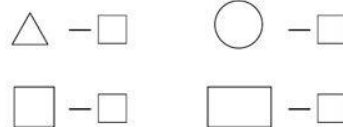


• Назови геометрические фигуры, из которых составлены предметы на картинке.

• Грузовик составлен из 4 кругов, 2 прямоугольников, 2 квадратов и 1 треугольника. Фигурка человечка составлена из 3 квадратов, 4 треугольников и 3 кругов.















• Запиши в клеточках общее количество фигур.

• Кругов — 7, квадратов — 5, треугольников — 5, прямоугольник — 1.



Обучение грамоте:

Тема: Где находится звук?

С	 [][]	 [][][]	 [][][]
Ш	 [][][]	 [][][]	 [][][]
Ц	 [][][]	 [][][]	 [][][]
Ч	 [][][]	 [][][]	 [][][]
Ж	 [][][]	 [][][]	 [][][]

11

Назовите все буквы, начиная с самой верхней. (Синяя — это С, зеленая — это Ш и т. д.)
Рядом с каждой буквой (в строке) находятся картинки для нее. Обозначьте на схемах слов, где находится звук, который эта буква обозначает (в начале, в конце или середине слова).

Занятие 3

1. Помоги буквам найти дорогу к своим рисункам.

Г Щ Ф Ш Х

2. С какой буквы начинается слово? Выбери нужную.

И Ю Е Я Ё

3. Допиши гласные буквы.

Г Л К

Л К

Л

К Р Ъ

4. Допиши слова.

С Т Л

С Т Л

5. Расшифруй слова.

□ □ □

□ □ □

□ □ □

□ □ □

□ □ □

□ □ □

Слоговые анаграммы

Переставь слоги и узнай, какие слова здесь спрятались.

САЛИ ВАСО ЗАКО

□ □ □ □ □ □ □ □ □

КАУТ ТЕЛДЯ ДРАВЫ

□ □ □ □ □ □ □ □ □

Лепка «Чудо букет».



Рисование: «Краски лета».



Чтение х\литературы.
Л.Н. Толстой «Филиппок»

